

AVANÇASP



CÂMARA MUNICIPAL DE JAGUARIÚNA

CONCURSO PÚBLICO
01/2023

ANALISTA LEGISLATIVO

Leia atentamente as instruções abaixo

1. PROVA E FOLHA DE RESPOSTAS

Além deste Caderno de Prova, contendo 50 (cinquenta) questões objetivas, você receberá do Fiscal de Sala:

- 01 (uma) Folha de Respostas destinada às respostas das questões objetivas. Confira se seus dados estão corretos.

2. TEMPO

- 03 (três) horas é o tempo disponível para realização da prova, já incluído o tempo para marcação da Folha de Respostas da prova objetiva;

- **01 (uma) hora** após o início da prova é possível, retirar-se da sala levando o caderno de prova;

3. INFORMAÇÕES GERAIS

- As questões objetivas têm 05 (cinco) alternativas de resposta (A, B, C, D, E) e somente **uma** delas está correta;

- Verifique se seu caderno está completo, sem repetição de questões ou falhas. Caso contrário, informe imediatamente o Fiscal da Sala, para que sejam tomadas as devidas providências;

- Confira seus dados pessoais na Folha de Respostas, especialmente nome, número de inscrição e documento de identidade e leia atentamente as instruções para preenchimento;

- O preenchimento das respostas da prova objetiva é de sua responsabilidade e não será permitida a troca de Folha de Respostas em caso de erro de marcação pelo candidato;

- Marque, na folha de respostas, com caneta de tinta azul ou preta, a letra correspondente à alternativa que você escolheu.

- Reserve tempo suficiente para o preenchimento de suas respostas. Para fins de avaliação, serão levadas em consideração apenas as marcações realizadas na Folha de Respostas da prova objetiva, não sendo permitido anotar informações relativas às respostas em qualquer outro meio que não seja o caderno de prova;

- Ao se retirar, entregue a Folha de Respostas preenchida e assinada ao Fiscal de Sala.

SERÁ ELIMINADO do presente certame o candidato que:

- a) for surpreendido, durante as provas, em qualquer tipo de comunicação com outro candidato;

- b) portar ou usar, qualquer tipo de aparelho eletrônico (calculadoras, bips/pagers, câmeras fotográficas, filmadoras, telefones celulares, smartphones, tablets, relógios, walkmans, MP3 players, fones de ouvido, agendas eletrônicas, notebooks, palmtops ou qualquer outro tipo de computador portátil, receptores ou gravadores) seja na sala de prova, sanitários, pátios ou qualquer outra dependência do local de prova;

- c) se ausentar da sala em que se realizam as provas levando consigo o Caderno de Questões e/ou a Folha de Respostas;

- d) se recusar a entregar a Folha de Respostas, quando terminar o tempo estabelecido;

- e) não assinar a Lista de Presença e/ou a Folha de Respostas.

CADERNO DE QUESTÕES

PROVA OBJETIVA

LÍNGUA PORTUGUESA**TEXTO****Índia se torna o 1º país a pousar no polo sul da Lua em missão histórica**

Em missão histórica nesta quarta-feira (23 de agosto), a Índia se tornou o 1º país a pousar no polo sul da Lua, região inexplorada que fica no lado escuro do satélite. Em transmissão ao vivo, os indianos exibiram uma representação gráfica da sonda descendo na Lua. “Conseguimos um pouso suave na Lua, a Índia está na Lua”, disse Sreedhara Panicker Somanath, presidente da Indian Space Research Organisation (ISRO), a “Nasa” indiana. O módulo foi lançado em 14 de julho e pousou na superfície lunar por volta das 9h33 desta quarta, horário de Brasília. “Este é um momento sem precedentes. Este é o momento para uma nova Índia em desenvolvimento”, comemorou Narendra Modi, primeiro-ministro do país.

Outros países tentaram pousar na Lua

O momento é histórico porque vários países tentam pousar no polo do sul da Lua. No domingo (20), a Rússia tentou ser o 1º país a pousar no lado escuro da Lua, com a missão Luna-25, mas a sonda saiu de controle e se chocou contra a Lua. Em abril deste ano, o Japão tentou enviar a sonda ispace, mas perdeu a comunicação minutos antes de completar o feito.

Características dessa parte da Lua

A superfície lunar, onde a sonda indiana desceu, é um terreno traiçoeiro com grandes crateras e encostas íngremes, além de não receber luz solar, levando a temperaturas extremamente baixas, que chegam a -203°C . Essas características tornam muito difícil operar equipamentos de exploração na região. Dessa forma, um pouso suave significa que o módulo não foi destruído. A Índia busca explorar a Lua - com a missão chamada Chandrayaan-3 - porque a primeira viagem espacial desse projeto, que ocorreu em 2008, detectou a presença de água na superfície lunar. “Ainda precisamos de muito mais detalhes sobre onde e quanta água existe, e saber se toda ela está congelada”, explica Akash Sinha, professor de robótica espacial na Universidade

Shiv Nadar University, perto de Delhi, à BBC. A exploração da superfície das regiões polares da Lua, compostas de rochas e solo, também pode dar respostas sobre a formação do Sistema Solar.

Missões anteriores

O objetivo do país se tornou explorar a Lua com o menor custo possível. Isso porque a segunda missão, que ocorreu em 2019 e deu errado (o foguete explodiu no pouso), custou US\$ 140 milhões, enquanto a desta manhã foi de um pouco mais de US\$ 80 milhões. A primeira, em 2009, custou em torno de US\$ 79 milhões.

O ex-presidente da Organização Indiana de Pesquisa Espacial K. Sivan disse que a viagem desta manhã será mais barata porque o módulo deve usar a atração gravitacional da Lua para levar a nave à órbita lunar. Além disso, outro ponto que reduz o preço da operação, segundo a BBC, é que, ao contrário da missão anterior, Chandrayaan-3 não inclui um novo orbitador — um satélite que fica em órbita.

G1. (Adaptado). Disponível em

<<https://g1.globo.com/inovacao/post/2023/08/23/india-foguete-lua.ghtml>>

QUESTÃO 01

Considere os seguintes excertos:

I. “Conseguimos um pouso suave na Lua, a Índia está na Lua”, disse Sreedhara Panicker Somanath (...).

II. “Ainda precisamos de muito mais detalhes sobre onde e quanta água existe, e saber se toda ela está congelada”, explica Akash Sinha (...)

III. O ex-presidente da Organização Indiana de Pesquisa Espacial K. Sivan disse que a viagem desta manhã será mais barata (...)

Nos excertos apresentados, ocorre discurso indireto apenas em:

- (A) I.
- (B) II.
- (C) III.
- (D) I e II.
- (E) II e III.

QUESTÃO 02

Considere o excerto: “Essas características tornam muito difícil operar equipamentos de exploração na região. Dessa forma, um pouso suave significa que o módulo não foi destruído.”

No contexto apresentado, a expressão ‘**dessa forma**’ é empregada com a função de:

- (A) operador argumentativo de explicação.
- (B) operador argumentativo de finalidade.
- (C) operador argumentativo de oposição.
- (D) operador argumentativo de conclusão.
- (E) operador argumentativo de comparação.

QUESTÃO 03

Assinale a alternativa em que, no excerto apresentado, a palavra ‘**se**’ atua como conectivo oracional.

- (A) “Em missão histórica (...) a Índia se tornou o 1º país a pousar no polo sul da Lua”.
- (B) “a Rússia tentou ser o 1º país a pousar no lado escuro da Lua (...) mas a sonda saiu de controle e se chocou contra a Lua.”
- (C) “Ainda precisamos de muito mais detalhes sobre onde e quanta água existe, e saber se toda ela está congelada”.
- (D) “O objetivo do país se tornou explorar a Lua com o menor custo possível.”
- (E) “Índia se torna o 1º país a pousar no polo sul da Lua em missão histórica”.

QUESTÃO 04

Considere o excerto: “Essas características tornam muito difícil operar equipamentos de exploração na região.” No contexto apresentado, a classificação da palavra ‘**muito**’, considerado o sentido que imprime ao enunciado, é:

- (A) advérbio de intensidade.
- (B) pronome indefinido de quantidade.
- (C) adjetivo de grau.
- (D) substantivo comum.
- (E) advérbio de modo.

QUESTÃO 05

O sufixo derivacional em ‘**traíçoeiro**’, palavra que ocorre no texto, provoca a modificação da classe gramatical da palavra de origem de:

- (A) adjetivo para adjetivo.
- (B) substantivo para adjetivo.
- (C) substantivo para advérbio.
- (D) advérbio para adjetivo.
- (E) adjetivo para advérbio.

QUESTÃO 06

Caso fosse ordinal, a escrita por extenso do numeral referente ao ano em “A primeira, em 2009, custou em torno de US\$ 79 milhões.” seria:

- (A) dois milésimo nono.
- (B) ducentésimo nono.
- (C) segundo milésimo nono.
- (D) bilésimo nono.
- (E) bilionésimo nono.

QUESTÃO 07

Considerando o emprego do hífen, as formas pluralizadas corretas das palavras ‘**ex-presidente**’ e ‘**primeiro-ministro**’, que ocorrem no texto, são:

- (A) exes-presidentes e primeiros-ministros.
- (B) ex-presidentes e primeiros-ministro.
- (C) ex-presidentes e primeiro-ministros.
- (D) ex-presidentes e primeiros-ministros.
- (E) exes-presidentes e primeiros-ministro.

QUESTÃO 08

Considere a seguinte sentença: “Reintegraram-no ao pelotão sem mais perguntas”. O verbo "reintegrar", como consta na sentença dada, é:

- (A) transitivo indireto.
- (B) transitivo direto e indireto.
- (C) intransitivo.
- (D) pronominal.
- (E) transitivo direto.

QUESTÃO 09

Assinale a alternativa em que a sentença apresenta um elemento que atua como recurso coesivo referencial catafórico.

- (A) Tenho apenas um desejo para este ano: ser mais produtiva.
- (B) Acéfalo ou acefalado é o nome dado ao animal que não tem cabeça.
- (C) O tempo voa...voa!
- (D) Se não atender às expectativas dele, será dispensado.
- (E) Podemos ir ao cinema, já que sua reunião foi cancelada.

QUESTÃO 10

Observe as alternativas abaixo e assinale aquela que **não** contém um verbo pronominal.

- (A) O jornalista penteou-se e preparou-se para mais um dia de trabalho.
- (B) As nações envolvidas atinham-se aos fatos mais recentes.
- (C) O odor do perfume espalhou-se pelo corredor.
- (D) Os empreendimentos foram realocados no novo centro comercial, onde construiu-se um prédio mais moderno que o anterior.
- (E) As artistas terminaram sua performance e se sentaram à beira do picadeiro.

MATEMÁTICA E RACIOCÍNIO LÓGICO

QUESTÃO 11

Uma parede será construída utilizando tijolos de altura e comprimento iguais a 20 cm, e largura 10 cm. Eles serão colocados sempre em posição ‘vertical’, de forma que a espessura da parede será correspondente ao lado de 10 cm do tijolo. Quantos tijolos no mínimo serão necessários para construir uma parede de 10 metros de comprimento e 3 metros de altura? Considere que não haverá espaçamento entre tijolos adjacentes.

- (A) 750.
- (B) 950.
- (C) 1050.
- (D) 1200.
- (E) 1350.

QUESTÃO 12

Uma empresa vende cestas de frutas e quer padronizar o conteúdo de todas as cestas para que sejam idênticos. As cestas contêm morangos, peras e maçãs (cada cesta deve conter x morangos, y peras e z maçãs). Em um determinado dia o estoque dispõe de 60 morangos, 72 peras e 120 maçãs. Neste dia, quantas cestas no máximo poderão ser feitas sabendo-se que as cestas devem ser idênticas e a empresa deve utilizar todas as frutas dispostas no estoque.

- (A) 10.
- (B) 12.
- (C) 6.
- (D) 8.
- (E) 20.

QUESTÃO 13

Uma copiadora faz xerox de documentos. As cópias podem ser em preto-e-branco ou coloridas, e têm preços diferentes. Bruno foi na copiadora e pediu 10 xerox coloridas e 15 xerox preto e branco, e o valor total foi R\$14,50. João foi na mesma copiadora e pediu 15 xerox coloridas e 10 xerox preto e branco, e pagou um valor total de R\$ 15,50. Nessa situação, qual o valor da unidade da xerox colorida? Considere que o valor unitário das cópias não mudou entre as compras de Bruno e João.

- (A) R\$ 0,60.
- (B) R\$ 0,65.
- (C) R\$ 0,70.
- (D) R\$ 0,75.
- (E) R\$ 0,80.

QUESTÃO 14

Um fio de nylon tem diâmetro da ordem de 0,5 mm, e um fio de cabelo tem diâmetro da ordem de 60 micrômetros (μm). Um micrômetro representa um milionésimo de um metro (ou seja, $1\text{ m} = 1.000.000\ \mu\text{m}$). Qual a razão entre o diâmetro de um fio de cabelo e o diâmetro de um fio de nylon?

- (A) 1,2.
- (B) 0,12.
- (C) 0,012.
- (D) 0,0012.
- (E) 0,00012.

QUESTÃO 15

Observe a seguinte sentença:

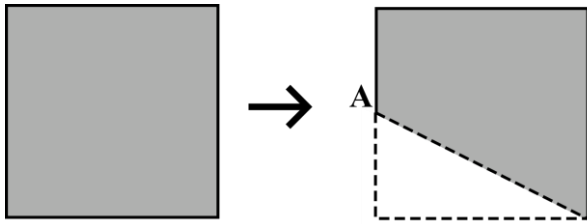
“Nesta selva, um animal é caçador ou presa.”

Indique a alternativa que apresenta a negação lógica da sentença:

- (A) Nesta selva, um animal é caçador mas não é presa.
- (B) Nesta selva, um animal não é caçador ou não é presa.
- (C) Nesta selva, um animal não é caçador, mas é presa.
- (D) Nesta selva, um animal não é caçador e nem presa.
- (E) Nesta selva, um animal não é caçador se e somente se não for presa.

QUESTÃO 16

Uma folha de papel de formato quadrado foi cortada conforme a figura:



O ponto A é o ponto médio do lado. Indique o perímetro da figura resultante (em cm) sabendo-se que o lado do quadrado original medeia 1 cm. Dado: $\sqrt{5} \approx 2,24$.

- (A) 1,12.
 (B) 1,24.
 (C) 3,24.
 (D) 3,06.
 (E) 3,62.

QUESTÃO 17

Um fabricante de lâmpadas especiais produz lâmpadas azuis, vermelhas e amarelas. Da produção total, as azuis representam 25%, as vermelhas 30%, e as amarelas 45%. Num certo dia de produção, uma determinada máquina parou de funcionar e sabe-se que 10% das lâmpadas azuis apresentaram defeitos. O mesmo aconteceu para 20% das lâmpadas vermelhas e 30% das lâmpadas amarelas. Nessa situação, quantos por cento do total da produção diária apresentou defeito?

- (A) 30%.
 (B) 28%.
 (C) 24%.
 (D) 22%.
 (E) 20%.

QUESTÃO 18

Um supermercado utiliza uma estratégia sucessiva de descontos a depender da quantidade de um dado item em estoque e da proximidade do seu vencimento. A tabela abaixo mostra o desconto aplicado sobre o valor original do produto a depender dessas variáveis:


		Quantidade de itens em estoque			
		> 5000	3000 - 4999	1000 - 2999	< 999
Dias para o vencimento	> 30	5%	3%	0%	0%
	30-21	10%	5%	5%	0%
	20-11	30%	20%	10%	2%
	01-10	60%	50%	30%	10%

Um determinado produto que tinha 1500 unidades em estoque, faltando 25 dias para o seu vencimento, estava sendo comercializado por R\$ 76,00. Após 5 dias, foram vendidas apenas 200 unidades. Qual o novo valor do produto?

- (A) R\$ 76,00.
 (B) R\$ 72,20.
 (C) R\$ 72,00.
 (D) R\$ 66,60.
 (E) R\$ 64,00.

QUESTÃO 19

Observe a seguinte sequência lógica figural:



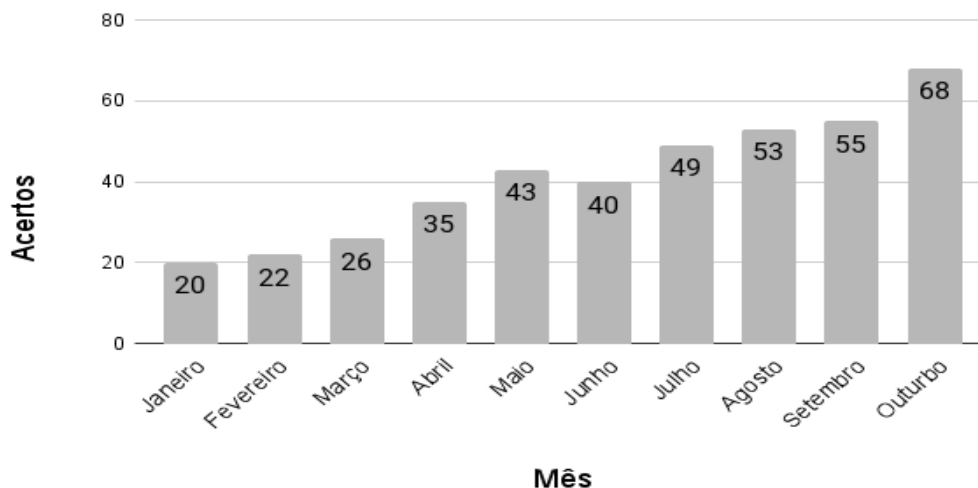
De acordo com as correspondências abaixo, indique o elemento que deve ser colocado na posição faltante (marcado com um ponto de interrogação):

I) ▲ II) ● III) ■ IV) × V) ★

- (A) I.
 (B) II.
 (C) III.
 (D) IV.
 (E) V.

QUESTÃO 20

Um estudante fará um vestibular no mês de novembro. Ele começou a estudar no mês de janeiro e adotou uma estratégia de fazer, a cada final de mês, uma prova de anos anteriores deste mesmo vestibular. Assim ele conseguiria acompanhar sua evolução ao longo do ano de estudo. O gráfico abaixo mostra o número de questões acertadas, dentre as 90 que são aplicadas anualmente:



Com base no gráfico, pode-se afirmar que o aumento percentual do número de acertos do estudante no mês de outubro, comparado com o número de acertos no mês de janeiro, foi de:

- (A) 240%.
 (B) 53%.
 (C) 140%.
 (D) 340%.
 (E) 75%.

NOÇÕES DE INFORMÁTICA
QUESTÃO 21

Analise o trecho a seguir:

“Pastas de trabalho, como definidas nos sistemas de gerenciamento de arquivos modernos, representam diretórios virtuais onde os indivíduos podem armazenar seus documentos, visando à acessibilidade e mobilidade interdispositivos, mesmo em cenários de conectividade intermitente ou offline. No contexto do sistema operacional Windows 7, as pastas de trabalho são estabelecidas mediante um conjunto de regras de configuração e autenticação que devem ser observadas para possibilitar a sincronização e o acesso a partir de ambientes que executam essa versão específica do Windows.”

Diante do contexto apresentado, é possível afirmar de forma correta:

- (A) Pastas de trabalho são usadas exclusivamente para armazenar arquivos de música.
- (B) Pastas de trabalho do Windows 7 não permitem o acesso a partir de dispositivos móveis.
- (C) O Windows 7 é o único sistema operacional que suporta pastas de trabalho.
- (D) As pastas no Windows 7 podem ser usadas para organizar e armazenar arquivos e documentos de maneira hierárquica, facilitando o acesso e a gestão dos dados no sistema operacional.
- (E) É impossível perder ou excluir acidentalmente arquivos armazenados em pastas de trabalho.

QUESTÃO 22

O atalho ____ + ____ + ____ no sistema operacional Windows serve para abrir o Gerenciador de Tarefas. O Gerenciador de Tarefas é uma ferramenta que permite aos usuários encerrar aplicativos ou processos que não estão respondendo ou estão causando problemas no sistema. Além disso, ele fornece informações detalhadas sobre o desempenho do sistema, os aplicativos em execução e os recursos do computador. É uma ferramenta útil para solucionar problemas de travamento, identificar programas que consomem muitos recursos e gerenciar o funcionamento do computador.

Diante do contexto apresentado, assinale a afirmativa que contenha, corretamente, os botões que completam as lacunas.

- (A) Ctrl + Alt + Esc.
- (B) Ctrl + Tab + Del.
- (C) Ctrl + Fn + Del.
- (D) Ctrl + Enter + Del.
- (E) Ctrl + Shift + Esc.

QUESTÃO 23

Lucimara está participando de uma reunião online importante com sua equipe. Ela precisa alternar entre a janela da reunião no Zoom e seu documento no Microsoft Word para compartilhar informações e tomar notas durante a discussão. O atalho ____ + ____ ajuda-a a fazer isso sem interromper a reunião.

Diante do contexto apresentado, assinale a afirmativa que contenha, corretamente, os botões utilizados para a execução realizada pela Lucimara.

- (A) Ctrl + Alt.
- (B) Ctrl + Fn.
- (C) Tab + Del.
- (D) Enter + Del.
- (E) Alt + Tab.

QUESTÃO 24

Sobre as funções do MS – Word 2016, analise os conceitos a seguir:

A - Permitem que o texto seja disposto em dois ou mais pilares na mesma página. Isso é útil para criar layouts de documentos, como newsletters ou relatórios.

B - São blocos de texto que separam o conteúdo em unidades lógicas, como ideias ou tópicos distintos. Geralmente é separado por espaços em branco e pode ser formatado quanto a alinhamento, espaçamento e recuo.

C - São usados para criar listas, como listas de tópicos ou instruções passo a passo. Usam símbolos, como círculos ou quadrados, para destacar itens na lista, ou ainda números para denotar a ordem dos itens na lista.

Assinale a afirmativa que contenha corretamente e, respectivamente, o conceito das afirmativas.

(A) A - Colunas; B - Parágrafos; C - Marcadores simbólicos e numéricos.

(B) A - Parágrafos; B - Colunas; C - Marcadores simbólicos e numéricos.

(C) A - Cabeçalhos; B - Parágrafos; C - Marcadores simbólicos e numéricos.

(D) A - Parágrafos; B - Cabeçalhos; C - Marcadores simbólicos e numéricos.

(E) A - Fontes; B - Cabeçalhos; C - Marcadores simbólicos e numéricos.

QUESTÃO 25

Sobre as funções do MS – Word 2016, analise os conceitos a seguir:

I - Permite adicionar elementos externos ao documento, como imagens, gráficos, tabelas, arquivos de áudio, vídeos e objetos incorporados. Isso enriquece o conteúdo e a apresentação do documento.

II - São códigos que o Word usa para incluir informações dinâmicas, como a data atual, o número de página, a hora, etc., no documento. São atualizados automaticamente quando o documento é aberto ou impresso.

III - São áreas designadas para inserir texto em um documento, permitindo um controle preciso sobre a localização e a formatação do texto. Elas são úteis para criar rótulos, textos explicativos ou destacar informações.

Assinale a afirmativa que contenha corretamente e, respectivamente, o conceito das afirmativas.

(A) I - Campos predefinidos; II - Inserção de objetos; III - Caixas de texto.

(B) I - Inserção de objetos; II - Campos predefinidos; III - Caixas de texto.

(C) I - Campos predefinidos; II - Caixas de texto; III - Inserção de objetos.

(D) I - Inserção de objetos; II - Caixas de texto; III - Campos predefinidos.

(E) I - Caixas de texto; II - Inserção de objetos; III - Campos predefinidos.

CONHECIMENTOS ESPECÍFICOS**QUESTÃO 26**

Analise as afirmativas abaixo e assinale a alternativa correta.

I - Ainda que o texto da Lei 8.112/1990 afirme que o período de estágio probatório é de 24 meses, com o advento da EC 29/98, o período para aquisição da estabilidade passou a ser de 3 anos.

II - O entendimento majoritário da doutrina é de que o período de estágio probatório deve ser de 2 anos, sendo este o prazo utilizado no serviço público federal.

III - Caso o servidor não seja estável, a inabilitação no estágio probatório acarreta a exoneração do cargo público, oportunidade em que o vínculo com o poder público é rompido.

- (A) Apenas o item I é verdadeiro.
- (B) Apenas o item II é verdadeiro.
- (C) Apenas o item III é verdadeiro.
- (D) Apenas o item I e III é verdadeiro.
- (E) Nenhum item é verdadeiro.

QUESTÃO 27

Analise os itens abaixo, que compõem a base dos direitos fundamentais da Constituição Federal e assinale aquele que não é uma das garantias individuais expressas no caput do artigo 5º, da CF/88.

- (A) direito à vida.
- (B) à liberdade.
- (C) à igualdade.
- (D) à segurança.
- (E) de locomoção.

QUESTÃO 28

Sobre o processo administrativo disciplinar, assinale a alternativa correta.

I - A sindicância é o processo administrativo disciplinar para apurar responsabilidades e aplicar sanções a servidores públicos que cometeram infrações no exercício de suas funções.

II - A sindicância é um inquérito administrativo que, em geral, é feito antes do processo administrativo disciplinar, que pode acontecer de modo sigiloso ou público.

III - Na sindicância serão analisados os casos mais simples, aqueles que têm como punição máxima a advertência ou a suspensão por 90 dias.

- (A) Apenas o item I é verdadeiro.
- (B) Apenas o item II é verdadeiro.
- (C) Apenas o item III é verdadeiro.
- (D) Apenas o item II e III é verdadeiro.
- (E) Todos os itens são verdadeiros.

QUESTÃO 29

Sobre bens públicos, assinale a alternativa falsa.

(A) Os bens públicos de uso comum do povo e os de uso especial são inalienáveis.

(B) É defeso a aquisição de bem público por usucapião

(C) Os bens públicos dominicais podem ser alienados

(D) São modelos de bens públicos de uso comum do povo: as ruas, as praças, os logradouros e os edifícios públicos.

(E) Os bens públicos não podem ser objeto de Hipoteca.

QUESTÃO 30

No que concerne à responsabilização do servidor público federal, assinale a alternativa correta.

I - A responsabilidade civil do servidor público consiste no ressarcimento dos prejuízos causados à Administração ou a terceiros em decorrência de ato, doloso ou culposo, no exercício da função.

II - A responsabilização do servidor público federal decorre da Lei nº 10.406/2002, que lhe impõe obediência às regras de conduta necessárias ao regular andamento do serviço público.

III - Servidor público federal que comete algum ilícito administrativo poderá responder pelo ato nas instâncias civil, penal e administrativa

- (A) Apenas o item I é falso.
- (B) Apenas o item II é falso.
- (C) Apenas o item III é falso.
- (D) Nenhum item é falso.
- (E) Todos os itens são falsos.

QUESTÃO 31

Analise as afirmativas a seguir e assinale a alternativa correta.

I - O ato da administração é qualquer ocorrido dentro da administração pública, independentemente da vontade humana, que gere efeitos jurídicos.

II - O fato administrativo é qualquer coisa, obrigatoriamente, ligada à vontade humana, que ocorre dentro da administração pública produzindo efeitos jurídicos.

III - Ato administrativo é praticado pela administração pública ou por quem a represente sob regime jurídico de direito público que produz efeito jurídico imediato e é passível de controle.

- (A) Apenas o item I é verdadeiro.
- (B) Apenas o item II é verdadeiro.
- (C) Apenas o item III é verdadeiro.
- (D) Apenas o item I e II é verdadeiro.
- (E) Nenhum item é verdadeiro.

QUESTÃO 32

Sobre a classificação do ato administrativo assinale a alternativa incorreta.

- (A) Ato normativo: decretos, portarias, regimentos, instruções normativas.
- (B) Ato político: nomeação para cargo, sanção e envio de projeto de lei.
- (C) Ato de consumação formal: demolição de uma casa.
- (D) Ato de juízo/opinião: pareceres técnicos.
- (E) Ato sob regime jurídico de direito privado: locação de um imóvel da administração a um particular.

QUESTÃO 33

Sobre a existência, validade e eficácia do ato administrativo, assinale a alternativa correta.

I - No âmbito do direito administrativo, tem-se a possibilidade do ato ser perfeito, inválido e eficaz.

II - Todos os atos da administração pública são dotados da presunção de legitimidade.

III - O próprio ato pode limitar sua eficácia (termo ou condição) e será, então, chamado ato administrativo pendente.

- (A) Apenas o item I é falso.
- (B) Apenas o item II é falso.
- (C) Apenas o item III é falso.
- (D) Nenhum item é falso.
- (E) Todos os itens são falsos.

QUESTÃO 34

Sobre os atributos do ato administrativo, assinale a alternativa correta.

I - A presunção de veracidade e legalidade, pela qual se presume que os fatos são verdadeiros e que está de acordo com a lei, cabendo ao particular provar o contrário.

II - A imperatividade, pela qual o ato administrativo não pode gerar efeito jurídico diferente daquele que nele foi previsto.

III - A tipicidade, reside no poder de interferir na esfera jurídica do particular, independentemente, da concordância deste.

- (A) Apenas o item I é verdadeiro.
- (B) Apenas o item II é verdadeiro.
- (C) Apenas o item III é verdadeiro.
- (D) Apenas o item I e III é verdadeiro.
- (E) Nenhum item é verdadeiro.

QUESTÃO 35

Segundo Maria Sylvia Di Pietro, são insuscetíveis de modificação, exceto:

- (A) Atos consumados, que já produzirão seus efeitos.
- (B) Atos desvinculados;
- (C) Atos que já geraram direitos adquiridos.
- (D) Atos que integram um procedimento administrativo.
- (E) Os “meros atos administrativos” (exemplo: certidões e atestados).

QUESTÃO 36

O processo administrativo segue um procedimento onde estão estabelecidas regras e ritos. Assim sendo, assinale a alternativa correta.

I – Instrução é onde ocorre a apresentação dos fatos pela Administração; e defesa é a oportunidade do requerido apresentar suas alegações.

II – Instauração é o momento em que há a colheita de provas; e o relatório é o documento elaborado pela pessoa/comissão designada para o caso.

III – Decisão é a conclusão do processo e poder haver a reconsideração, caso tenha elementos novos.

- (A) Apenas o item I é verdadeiro.
- (B) Apenas o item II é verdadeiro.
- (C) Apenas o item III é verdadeiro.
- (D) Apenas o item I e II é verdadeiro.
- (E) Todos os itens são verdadeiros.

QUESTÃO 37

Sobre o processo administrativo, assinale a resposta correta.

I - No Brasil, o processo administrativo é regulado pela Lei Federal nº 10.406/2002.

II - A Lei de Processo Administrativo garante o cumprimento das garantias fundamentais, a regularização dos princípios administrativos e limita as condutas da Administração Pública.

III - Os processos administrativos podem ser revistos em circunstâncias específicas, conforme estabelecido pela legislação pertinente.

- (A) Apenas o item I é falso.
- (B) Apenas o item II é falso.
- (C) Apenas o item III é falso.
- (D) Nenhum item é falso.
- (E) Todos os itens são falsos.

QUESTÃO 38

Segundo a CF/88, o processo legislativo compreende a elaboração de, exceto:

- (A) Emendas constitucionais.
- (B) Leis ordinárias.
- (C) Medidas provisórias.
- (D) Portarias.
- (E) Resoluções.

QUESTÃO 39

São deveres do administrado perante a Administração, sem prejuízo de outros previstos em ato normativo:

- (A) ser tratado com respeito pelas autoridades e servidores, que deverão facilitar o exercício de seus direitos e o cumprimento de suas obrigações.
- (B) ter ciência da tramitação dos processos administrativos em que tenha a condição de interessado, ter vista dos autos, obter cópias de documentos neles contidos e conhecer as decisões proferidas.
- (C) formular alegações e apresentar documentos antes da decisão, os quais serão objeto de consideração pelo órgão competente;
- (D) fazer-se assistir, facultativamente, por advogado, salvo quando obrigatória a representação, por força de lei.
- (E) prestar as informações que lhe forem solicitadas e colaborar para o esclarecimento dos fatos.

QUESTÃO 40

No atendimento das necessidades da população, os vereadores devem primar para a construção de leis com qualidade e impacto social positivo, atendendo aos princípios da legística. São espécies legislativas, previstas em seus Regimentos Internos, exceto:

- (A) Projeto de Decreto Municipal.
- (B) Projeto de Resolução.
- (C) Requerimento.
- (D) Emenda e Indicação.
- (E) Moção e Recurso.

QUESTÃO 41

Assinale a alternativa que corresponda a um tipo de licença e/ou afastamento que não podem ser utilizados no estágio probatório.

- (A) Licença por motivo de doença em pessoa da família.
- (B) Licença para desempenho de mandato classista.
- (C) Licença por motivo de afastamento do cônjuge ou companheiro.
- (D) Afastamento para exercício de mandato eletivo.
- (E) Afastamento para estudo ou missão no exterior.

QUESTÃO 42

Leia o texto abaixo e assinale a alternativa correta. O subsídio dos vereadores será fixado pelas respectivas Câmaras Municipais em cada legislatura para a subsequente, observado o que dispõe a CF/88 e os critérios estabelecidos na respectiva Lei Orgânica e os seguintes limites.

I - Em Municípios de até 10 mil habitantes, o subsídio máximo dos vereadores corresponderá a 40% do subsídio dos Deputados Estaduais.

II - Em Municípios de 10 mil e um a 50 mil habitantes o subsídio máximo dos vereadores corresponderá a 30% do subsídio dos Deputados Estaduais.

III - Em Municípios de 50 mil e um a 100 mil habitantes, o subsídio máximo dos vereadores corresponderá a 20% do subsídio dos Deputados Estaduais.

- (A) Apenas o item I é verdadeiro.
- (B) Apenas o item II é verdadeiro.
- (C) Apenas o item III é verdadeiro.
- (D) Nenhum item é verdadeiro
- (E) Todos os itens são verdadeiros.

QUESTÃO 43

Para a composição das Câmaras Municipais, será observado o limite máximo de:

- (A) 17 vereadores, nos Municípios de até 15.000 habitantes.
- (B) 15 vereadores, nos Municípios de mais de 15.000 e de até 30.000 habitantes.
- (C) 13 vereadores, nos Municípios com mais de 30.000 e de até 50.000 habitantes.
- (D) 11 vereadores, nos Municípios de mais de 50.000 e de até 80.000 habitantes.
- (E) 9 vereadores, nos Municípios de mais de 80.000 e de até 120.000 habitantes.

QUESTÃO 44

Sobre a organização do Poder Legislativo, assinale a alternativa correta.

I - O Poder Legislativo é exercido pelo Congresso Nacional, que se compõe da Câmara dos Deputados e do Senado Federal.

II - A Câmara dos Deputados compõe-se de representantes do povo, eleitos, pelo sistema majoritário, em cada Estado, em cada Território e no Distrito Federal.

III - O Senado Federal compõe-se de representantes dos Estados e do Distrito Federal, eleitos segundo o princípio proporcional.

- (A) Apenas o item I é verdadeiro.
- (B) Apenas o item II é verdadeiro.
- (C) Apenas o item III é verdadeiro.
- (D) Apenas o item I e II é verdadeiro.
- (E) Todos os itens são verdadeiros.

QUESTÃO 45

O artigo 127 da Lei nº 8.112/90 prevê as espécies de sanções disciplinares aplicáveis aos servidores públicos federais. Marque a alternativa incorreta.

- (A) Advertência.
- (B) Suspensão.
- (C) Demissão.
- (D) Cassação de aposentadoria ou disponibilidade.
- (E) Exoneração.

QUESTÃO 46

Concernente aos bens públicos, assinale a alternativa correta.

I - O destinatário dos bens públicos de uso comum é indeterminado e pode ser qualquer cidadão. As ruas, praças, praias, estradas etc são bens públicos de uso comum.

II - Os bens públicos afetados são representados pelos bens dominicais e como exemplo temos as terras devolutas.

III - A afetação de um bem públicos existe por força de sua utilização pela coletividade.

- (A) Apenas o item I é verdadeiro.
- (B) Apenas o item II é verdadeiro.
- (C) Apenas o item III é verdadeiro.
- (D) Apenas o item I e III é verdadeiro.
- (E) Todos os itens são verdadeiros.

QUESTÃO 47

Segundo a lição de Hely Lopes Meirelles, existem cinco espécies de atos administrativos. Assim sendo, assinale a alternativa correta.

(A) Atos punitivos são aqueles de comando geral e abstrato, cujo objetivo é a fiel execução da lei.

(B) Atos ordinatórios são aqueles editados no exercício do poder hierárquico, tendo como finalidade disciplinar o funcionamento da Administração Pública, bem como a conduta funcional dos agentes públicos no âmbito interno.

(C) Atos enunciativos são aqueles editados a pedido do particular quando este necessita de uma anuência ou consentimento prévio do Estado para exercer de forma legítima determinada atividade.

(D) Atos negociais são aqueles pelos quais a Administração Pública certifica, ou atesta um fato preexistente, por meio de uma opinião ou emite um juízo de valor.

(E) Atos normativos estão relacionados às sanções impostas pelo Estado com a finalidade de punir ou reprimir a prática irregular, podendo ser fruto do poder disciplinar (sanções internas) ou de polícia (sanções externas).

QUESTÃO 48

Segundo o art. 61 da CF/88, a iniciativa das leis complementares e ordinárias cabe, exceto:

- (A) a qualquer membro ou Comissão da Câmara dos Deputados, do Senado Federal.
- (B) ao Presidente da República.
- (C) ao Supremo Tribunal Federal.
- (D) aos Tribunais Superiores.
- (E) ao Ministério Público.

QUESTÃO 49

São de iniciativa privativa do Presidente da República as leis que disponham sobre:

- (A) criação de cargos, funções ou empregos públicos na administração indireta, exceto o aumento de sua remuneração.
- (B) organização administrativa e judiciária, matéria tributária e orçamentária, serviços públicos e pessoal da administração dos Estados.
- (C) criação e extinção de Ministérios e órgãos da administração pública.
- (D) servidores públicos da União e Municípios, seu regime jurídico, provimento de cargos, estabilidade e aposentadoria.
- (E) organização da Procuradoria Geral do Estado e da Defensoria Pública da União, bem como normas gerais para a organização do Ministério Público.

QUESTÃO 50

Para que um ato produza efeitos de forma regular, deve passar pelos três planos: existência, validade e eficácia, assim, assinale a alternativa correta.

I - Existência: ato que cumpriu todas as etapas necessárias a sua formação. Ato perfeito.

II - Validade: aptidão do ato para produção de efeitos.

III - Eficácia: conformidade do ato com o ordenamento jurídico.

(A) Apenas o item I é verdadeiro.

(B) Apenas o item II é verdadeiro.

(C) Apenas o item III é verdadeiro.

(D) Apenas o item I e III é verdadeiro.

(E) Todos os itens são verdadeiros.

