

CONTADOR

Leia atentamente as instruções abaixo

1. PROVA E FOLHA DE RESPOSTAS

Além deste Caderno de Prova, contendo 50 (cinquenta) questões objetivas, você receberá do Fiscal de Sala:

- 01 (uma) Folha de Respostas destinada às respostas das questões objetivas. Confira se seus dados estão corretos.

2. TEMPO

- 03 (três) horas é o tempo disponível para realização da prova, já incluído o tempo para marcação da Folha de Respostas da prova objetiva;

- **01 (uma) hora** após o início da prova é possível, retirar-se da sala levando o caderno de prova;

3. INFORMAÇÕES GERAIS

- As questões objetivas têm 05 (cinco) alternativas de resposta (A, B, C, D, E) e somente **uma** delas está correta;

- Verifique se seu caderno está completo, sem repetição de questões ou falhas. Caso contrário, informe imediatamente o Fiscal da Sala, para que sejam tomadas as devidas providências;

- Confira seus dados pessoais na Folha de Respostas, especialmente nome, número de inscrição e documento de identidade e leia atentamente as instruções para preenchimento;

- O preenchimento das respostas da prova objetiva é de sua responsabilidade e não será permitida a troca de Folha de Respostas em caso de erro de marcação pelo candidato;

- Marque, na folha de respostas, com caneta de tinta azul ou preta, a letra correspondente à alternativa que você escolheu.

- Reserve tempo suficiente para o preenchimento de suas respostas. Para fins de avaliação, serão levadas em consideração apenas as marcações realizadas na Folha de Respostas da prova objetiva, não sendo permitido anotar informações relativas às respostas em qualquer outro meio que não seja o caderno de prova;

- Ao se retirar, entregue a Folha de Respostas preenchida e assinada ao Fiscal de Sala.

SERÁ ELIMINADO do presente certame o candidato que:

- a) for surpreendido, durante as provas, em qualquer tipo de comunicação com outro candidato;

- b) portar ou usar, qualquer tipo de aparelho eletrônico (calculadoras, bips/pagers, câmeras fotográficas, filmadoras, telefones celulares, smartphones, tablets, relógios, walkmans, MP3 players, fones de ouvido, agendas eletrônicas, notebooks, palmtops ou qualquer outro tipo de computador portátil, receptores ou gravadores) seja na sala de prova, sanitários, pátios ou qualquer outra dependência do local de prova;

- c) se ausentar da sala em que se realizam as provas levando consigo o Caderno de Questões e/ou a Folha de Respostas;

- d) se recusar a entregar a Folha de Respostas, quando terminar o tempo estabelecido;

- e) não assinar a Lista de Presença e/ou a Folha de Respostas.

LÍNGUA PORTUGUESA**TEXTO****Índia se torna o 1º país a pousar no polo sul da Lua em missão histórica**

Em missão histórica nesta quarta-feira (23 de agosto), a Índia se tornou o 1º país a pousar no polo sul da Lua, região inexplorada que fica no lado escuro do satélite. Em transmissão ao vivo, os indianos exibiram uma representação gráfica da sonda descendo na Lua. “Conseguimos um pouso suave na Lua, a Índia está na Lua”, disse Sreedhara Panicker Somanath, presidente da Indian Space Research Organisation (ISRO), a “Nasa” indiana. O módulo foi lançado em 14 de julho e pousou na superfície lunar por volta das 9h33 desta quarta, horário de Brasília. “Este é um momento sem precedentes. Este é o momento para uma nova Índia em desenvolvimento”, comemorou Narendra Modi, primeiro-ministro do país.

Outros países tentaram pousar na Lua

O momento é histórico porque vários países tentam pousar no polo do sul da Lua. No domingo (20), a Rússia tentou ser o 1º país a pousar no lado escuro da Lua, com a missão Luna-25, mas a sonda saiu de controle e se chocou contra a Lua. Em abril deste ano, o Japão tentou enviar a sonda ispace, mas perdeu a comunicação minutos antes de completar o feito.

Características dessa parte da Lua

A superfície lunar, onde a sonda indiana desceu, é um terreno traiçoeiro com grandes crateras e encostas íngremes, além de não receber luz solar, levando a temperaturas extremamente baixas, que chegam a -203°C . Essas características tornam muito difícil operar equipamentos de exploração na região. Dessa forma, um pouso suave significa que o módulo não foi destruído. A Índia busca explorar a Lua - com a missão chamada Chandrayaan-3 - porque a primeira viagem espacial desse projeto, que ocorreu em 2008, detectou a presença de água na superfície lunar. “Ainda precisamos de muito mais detalhes sobre onde e quanta água existe, e saber se toda ela está congelada”, explica Akash Sinha, professor de robótica espacial na Universidade

Shiv Nadar University, perto de Delhi, à BBC. A exploração da superfície das regiões polares da Lua, compostas de rochas e solo, também pode dar respostas sobre a formação do Sistema Solar.

Missões anteriores

O objetivo do país se tornou explorar a Lua com o menor custo possível. Isso porque a segunda missão, que ocorreu em 2019 e deu errado (o foguete explodiu no pouso), custou US\$ 140 milhões, enquanto a desta manhã foi de um pouco mais de US\$ 80 milhões. A primeira, em 2009, custou em torno de US\$ 79 milhões.

O ex-presidente da Organização Indiana de Pesquisa Espacial K. Sivan disse que a viagem desta manhã será mais barata porque o módulo deve usar a atração gravitacional da Lua para levar a nave à órbita lunar. Além disso, outro ponto que reduz o preço da operação, segundo a BBC, é que, ao contrário da missão anterior, Chandrayaan-3 não inclui um novo orbitador — um satélite que fica em órbita.

G1. (Adaptado). Disponível em

<<https://g1.globo.com/inovacao/post/2023/08/23/india-foguete-lua.ghtml>>

QUESTÃO 01

Considere os seguintes excertos:

I. “Conseguimos um pouso suave na Lua, a Índia está na Lua”, disse Sreedhara Panicker Somanath (...).

II. “Ainda precisamos de muito mais detalhes sobre onde e quanta água existe, e saber se toda ela está congelada”, explica Akash Sinha (...)

III. O ex-presidente da Organização Indiana de Pesquisa Espacial K. Sivan disse que a viagem desta manhã será mais barata (...)

Nos excertos apresentados, ocorre discurso indireto apenas em:

- (A) I.
- (B) II.
- (C) III.
- (D) I e II.
- (E) II e III.

QUESTÃO 02

Considere o excerto: “Essas características tornam muito difícil operar equipamentos de exploração na região. Dessa forma, um pouso suave significa que o módulo não foi destruído.”

No contexto apresentado, a expressão ‘**dessa forma**’ é empregada com a função de:

- (A) operador argumentativo de explicação.
- (B) operador argumentativo de finalidade.
- (C) operador argumentativo de oposição.
- (D) operador argumentativo de conclusão.
- (E) operador argumentativo de comparação.

QUESTÃO 03

Assinale a alternativa em que, no excerto apresentado, a palavra ‘**se**’ atua como conectivo oracional.

- (A) “Em missão histórica (...) a Índia se tornou o 1º país a pousar no polo sul da Lua”.
- (B) “a Rússia tentou ser o 1º país a pousar no lado escuro da Lua (...) mas a sonda saiu de controle e se chocou contra a Lua.”
- (C) “Ainda precisamos de muito mais detalhes sobre onde e quanta água existe, e saber se toda ela está congelada”.
- (D) “O objetivo do país se tornou explorar a Lua com o menor custo possível.”
- (E) “Índia se torna o 1º país a pousar no polo sul da Lua em missão histórica”.

QUESTÃO 04

Considere o excerto: “Essas características tornam muito difícil operar equipamentos de exploração na região.” No contexto apresentado, a classificação da palavra ‘**muito**’, considerado o sentido que imprime ao enunciado, é:

- (A) advérbio de intensidade.
- (B) pronome indefinido de quantidade.
- (C) adjetivo de grau.
- (D) substantivo comum.
- (E) advérbio de modo.

QUESTÃO 05

O sufixo derivacional em ‘**traíçoeiro**’, palavra que ocorre no texto, provoca a modificação da classe gramatical da palavra de origem de:

- (A) adjetivo para adjetivo.
- (B) substantivo para adjetivo.
- (C) substantivo para advérbio.
- (D) advérbio para adjetivo.
- (E) adjetivo para advérbio.

QUESTÃO 06

Caso fosse ordinal, a escrita por extenso do numeral referente ao ano em “A primeira, em 2009, custou em torno de US\$ 79 milhões.” seria:

- (A) dois milésimo nono.
- (B) ducentésimo nono.
- (C) segundo milésimo nono.
- (D) bilésimo nono.
- (E) bilionésimo nono.

QUESTÃO 07

Considerando o emprego do hífen, as formas pluralizadas corretas das palavras ‘**ex-presidente**’ e ‘**primeiro-ministro**’, que ocorrem no texto, são:

- (A) exes-presidentes e primeiros-ministros.
- (B) ex-presidentes e primeiros-ministro.
- (C) ex-presidentes e primeiro-ministros.
- (D) ex-presidentes e primeiros-ministros.
- (E) exes-presidentes e primeiros-ministro.

QUESTÃO 08

Considere a seguinte sentença: “Reintegraram-no ao pelotão sem mais perguntas”. O verbo "reintegrar", como consta na sentença dada, é:

- (A) transitivo indireto.
- (B) transitivo direto e indireto.
- (C) intransitivo.
- (D) pronominal.
- (E) transitivo direto.

QUESTÃO 09

Assinale a alternativa em que a sentença apresenta um elemento que atua como recurso coesivo referencial catafórico.

- (A) Tenho apenas um desejo para este ano: ser mais produtiva.
- (B) Acéfalo ou acefalado é o nome dado ao animal que não tem cabeça.
- (C) O tempo voa...voa!
- (D) Se não atender às expectativas dele, será dispensado.
- (E) Podemos ir ao cinema, já que sua reunião foi cancelada.

QUESTÃO 10

Observe as alternativas abaixo e assinale aquela que **não** contém um verbo pronominal.

- (A) O jornalista penteou-se e preparou-se para mais um dia de trabalho.
- (B) As nações envolvidas atinham-se aos fatos mais recentes.
- (C) O odor do perfume espalhou-se pelo corredor.
- (D) Os empreendimentos foram realocados no novo centro comercial, onde construiu-se um prédio mais moderno que o anterior.
- (E) As artistas terminaram sua performance e se sentaram à beira do picadeiro.

MATEMÁTICA E RACIOCÍNIO LÓGICO

QUESTÃO 11

Uma parede será construída utilizando tijolos de altura e comprimento iguais a 20 cm, e largura 10 cm. Eles serão colocados sempre em posição ‘vertical’, de forma que a espessura da parede será correspondente ao lado de 10 cm do tijolo. Quantos tijolos no mínimo serão necessários para construir uma parede de 10 metros de comprimento e 3 metros de altura? Considere que não haverá espaçamento entre tijolos adjacentes.

- (A) 750.
- (B) 950.
- (C) 1050.
- (D) 1200.
- (E) 1350.

QUESTÃO 12

Uma empresa vende cestas de frutas e quer padronizar o conteúdo de todas as cestas para que sejam idênticos. As cestas contêm morangos, peras e maçãs (cada cesta deve conter x morangos, y peras e z maçãs). Em um determinado dia o estoque dispõe de 60 morangos, 72 peras e 120 maçãs. Neste dia, quantas cestas no máximo poderão ser feitas sabendo-se que as cestas devem ser idênticas e a empresa deve utilizar todas as frutas dispostas no estoque.

- (A) 10.
- (B) 12.
- (C) 6.
- (D) 8.
- (E) 20.

QUESTÃO 13

Uma copiadora faz xerox de documentos. As cópias podem ser em preto-e-branco ou coloridas, e têm preços diferentes. Bruno foi na copiadora e pediu 10 xerox coloridas e 15 xerox preto e branco, e o valor total foi R\$14,50. João foi na mesma copiadora e pediu 15 xerox coloridas e 10 xerox preto e branco, e pagou um valor total de R\$ 15,50. Nessa situação, qual o valor da unidade da xerox colorida? Considere que o valor unitário das cópias não mudou entre as compras de Bruno e João.

- (A) R\$ 0,60.
- (B) R\$ 0,65.
- (C) R\$ 0,70.
- (D) R\$ 0,75.
- (E) R\$ 0,80.

QUESTÃO 14

Um fio de nylon tem diâmetro da ordem de 0,5 mm, e um fio de cabelo tem diâmetro da ordem de 60 micrômetros (μm). Um micrômetro representa um milionésimo de um metro (ou seja, $1\text{ m} = 1.000.000\ \mu\text{m}$). Qual a razão entre o diâmetro de um fio de cabelo e o diâmetro de um fio de nylon?

- (A) 1,2.
- (B) 0,12.
- (C) 0,012.
- (D) 0,0012.
- (E) 0,00012.

QUESTÃO 15

Observe a seguinte sentença:

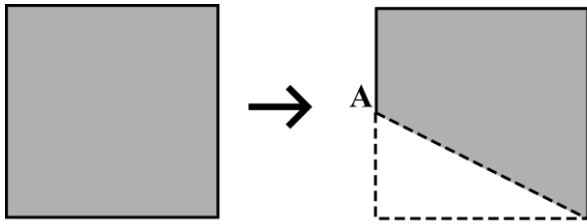
“Nesta selva, um animal é caçador ou presa.”

Indique a alternativa que apresenta a negação lógica da sentença:

- (A) Nesta selva, um animal é caçador mas não é presa.
- (B) Nesta selva, um animal não é caçador ou não é presa.
- (C) Nesta selva, um animal não é caçador, mas é presa.
- (D) Nesta selva, um animal não é caçador e nem presa.
- (E) Nesta selva, um animal não é caçador se e somente se não for presa.

QUESTÃO 16

Uma folha de papel de formato quadrado foi cortada conforme a figura:



O ponto A é o ponto médio do lado. Indique o perímetro da figura resultante (em cm) sabendo-se que o lado do quadrado original media 1 cm. Dado: $\sqrt{5} \approx 2,24$.

- (A) 1,12.
- (B) 1,24.
- (C) 3,24.
- (D) 3,06.
- (E) 3,62.

QUESTÃO 17

Um fabricante de lâmpadas especiais produz lâmpadas azuis, vermelhas e amarelas. Da produção total, as azuis representam 25%, as vermelhas 30%, e as amarelas 45%. Num certo dia de produção, uma determinada máquina parou de funcionar e sabe-se que 10% das lâmpadas azuis apresentaram defeitos. O mesmo aconteceu para 20% das lâmpadas vermelhas e 30% das lâmpadas amarelas. Nessa situação, quantos por cento do total da produção diária apresentou defeito?

- (A) 30%.
- (B) 28%.
- (C) 24%.
- (D) 22%.
- (E) 20%.

QUESTÃO 18

Um supermercado utiliza uma estratégia sucessiva de descontos a depender da quantidade de um dado item em estoque e da proximidade do seu vencimento. A tabela abaixo mostra o desconto aplicado sobre o valor original do produto a depender dessas variáveis:


		Quantidade de itens em estoque			
		> 5000	3000 - 4999	1000 - 2999	< 999
Dias para o vencimento	> 30	5%	3%	0%	0%
	30-21	10%	5%	5%	0%
	20-11	30%	20%	10%	2%
	01-10	60%	50%	30%	10%

Um determinado produto que tinha 1500 unidades em estoque, faltando 25 dias para o seu vencimento, estava sendo comercializado por R\$ 76,00. Após 5 dias, foram vendidas apenas 200 unidades. Qual o novo valor do produto?

- (A) R\$ 76,00.
- (B) R\$ 72,20.
- (C) R\$ 72,00.
- (D) R\$ 66,60.
- (E) R\$ 64,00.

QUESTÃO 19

Observe a seguinte sequência lógica figural:



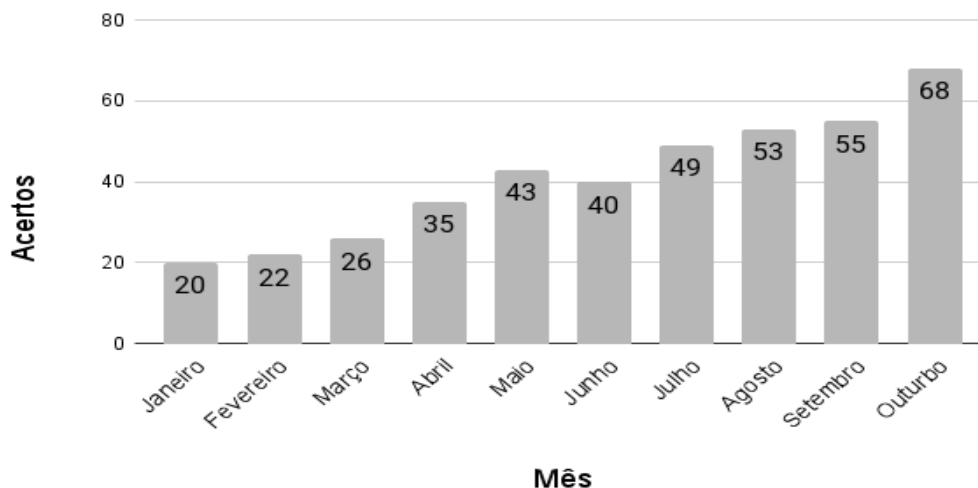
De acordo com as correspondências abaixo, indique o elemento que deve ser colocado na posição faltante (marcado com um ponto de interrogação):

I) ▲ II) ● III) ■ IV) × V) ★

- (A) I.
 (B) II.
 (C) III.
 (D) IV.
 (E) V.

QUESTÃO 20

Um estudante fará um vestibular no mês de novembro. Ele começou a estudar no mês de janeiro e adotou uma estratégia de fazer, a cada final de mês, uma prova de anos anteriores deste mesmo vestibular. Assim ele conseguiria acompanhar sua evolução ao longo do ano de estudo. O gráfico abaixo mostra o número de questões acertadas, dentre as 90 que são aplicadas anualmente:



Com base no gráfico, pode-se afirmar que o aumento percentual do número de acertos do estudante no mês de outubro, comparado com o número de acertos no mês de janeiro, foi de:

- (A) 240%.
 (B) 53%.
 (C) 140%.
 (D) 340%.
 (E) 75%.

NOÇÕES DE INFORMÁTICA
QUESTÃO 21

Analise o trecho a seguir:

“Pastas de trabalho, como definidas nos sistemas de gerenciamento de arquivos modernos, representam diretórios virtuais onde os indivíduos podem armazenar seus documentos, visando à acessibilidade e mobilidade interdispositivos, mesmo em cenários de conectividade intermitente ou offline. No contexto do sistema operacional Windows 7, as pastas de trabalho são estabelecidas mediante um conjunto de regras de configuração e autenticação que devem ser observadas para possibilitar a sincronização e o acesso a partir de ambientes que executam essa versão específica do Windows.”

Diante do contexto apresentado, é possível afirmar de forma correta:

- (A) Pastas de trabalho são usadas exclusivamente para armazenar arquivos de música.
- (B) Pastas de trabalho do Windows 7 não permitem o acesso a partir de dispositivos móveis.
- (C) O Windows 7 é o único sistema operacional que suporta pastas de trabalho.
- (D) As pastas no Windows 7 podem ser usadas para organizar e armazenar arquivos e documentos de maneira hierárquica, facilitando o acesso e a gestão dos dados no sistema operacional.
- (E) É impossível perder ou excluir acidentalmente arquivos armazenados em pastas de trabalho.

QUESTÃO 22

O atalho ____ + ____ + ____ no sistema operacional Windows serve para abrir o Gerenciador de Tarefas. O Gerenciador de Tarefas é uma ferramenta que permite aos usuários encerrar aplicativos ou processos que não estão respondendo ou estão causando problemas no sistema. Além disso, ele fornece informações detalhadas sobre o desempenho do sistema, os aplicativos em execução e os recursos do computador. É uma ferramenta útil para solucionar problemas de travamento, identificar programas que consomem muitos recursos e gerenciar o funcionamento do computador.

Diante do contexto apresentado, assinale a afirmativa que contenha, corretamente, os botões que completam as lacunas.

- (A) Ctrl + Alt + Esc.
- (B) Ctrl + Tab + Del.
- (C) Ctrl + Fn + Del.
- (D) Ctrl + Enter + Del.
- (E) Ctrl + Shift + Esc.

QUESTÃO 23

Lucimara está participando de uma reunião online importante com sua equipe. Ela precisa alternar entre a janela da reunião no Zoom e seu documento no Microsoft Word para compartilhar informações e tomar notas durante a discussão. O atalho ____ + ____ ajuda-a a fazer isso sem interromper a reunião.

Diante do contexto apresentado, assinale a afirmativa que contenha, corretamente, os botões utilizados para a execução realizada pela Lucimara.

- (A) Ctrl + Alt.
- (B) Ctrl + Fn.
- (C) Tab + Del.
- (D) Enter + Del.
- (E) Alt + Tab.

QUESTÃO 24

Sobre as funções do MS – Word 2016, analise os conceitos a seguir:

A - Permitem que o texto seja disposto em dois ou mais pilares na mesma página. Isso é útil para criar layouts de documentos, como newsletters ou relatórios.

B - São blocos de texto que separam o conteúdo em unidades lógicas, como ideias ou tópicos distintos. Geralmente é separado por espaços em branco e pode ser formatado quanto a alinhamento, espaçamento e recuo.

C - São usados para criar listas, como listas de tópicos ou instruções passo a passo. Usam símbolos, como círculos ou quadrados, para destacar itens na lista, ou ainda números para denotar a ordem dos itens na lista.

Assinale a afirmativa que contenha corretamente e, respectivamente, o conceito das afirmativas.

(A) A - Colunas; B - Parágrafos; C - Marcadores simbólicos e numéricos.

(B) A - Parágrafos; B - Colunas; C - Marcadores simbólicos e numéricos.

(C) A - Cabeçalhos; B - Parágrafos; C - Marcadores simbólicos e numéricos.

(D) A - Parágrafos; B - Cabeçalhos; C - Marcadores simbólicos e numéricos.

(E) A - Fontes; B - Cabeçalhos; C - Marcadores simbólicos e numéricos.

QUESTÃO 25

Sobre as funções do MS – Word 2016, analise os conceitos a seguir:

I - Permite adicionar elementos externos ao documento, como imagens, gráficos, tabelas, arquivos de áudio, vídeos e objetos incorporados. Isso enriquece o conteúdo e a apresentação do documento.

II - São códigos que o Word usa para incluir informações dinâmicas, como a data atual, o número de página, a hora, etc., no documento. São atualizados automaticamente quando o documento é aberto ou impresso.

III - São áreas designadas para inserir texto em um documento, permitindo um controle preciso sobre a localização e a formatação do texto. Elas são úteis para criar rótulos, textos explicativos ou destacar informações.

Assinale a afirmativa que contenha corretamente e, respectivamente, o conceito das afirmativas.

(A) I - Campos predefinidos; II - Inserção de objetos; III - Caixas de texto.

(B) I - Inserção de objetos; II - Campos predefinidos; III - Caixas de texto.

(C) I - Campos predefinidos; II - Caixas de texto; III - Inserção de objetos.

(D) I - Inserção de objetos; II - Caixas de texto; III - Campos predefinidos.

(E) I - Caixas de texto; II - Inserção de objetos; III - Campos predefinidos.

CONHECIMENTOS ESPECÍFICOS
QUESTÃO 26

Atenção! Considere os dados fornecidos adiante para resolução das questões de número 26 a 28.

A Cia. Tucunaré encerrou o exercício de 2022 com um Ativo Bruto no valor de R\$ 800.000,00. O Passivo Exigível é equivalente a 2/5 deste valor, e deste, 40% são exigíveis no curto prazo.

Sabendo que 3/5 do Ativo Bruto são Não-Circulantes, assinale a alternativa que representa o Índice de Liquidez Corrente da Cia. Tucunaré em 31/12/2022:

- (A) 1,05.
- (B) 1,15.
- (C) 1,25.
- (D) 1,50.
- (E) 1,66.

QUESTÃO 27

O valor do Patrimônio Líquido da Cia. Tucunaré em 31/12/2022 importa em:

- (A) R\$ 420.000,00.
- (B) R\$ 440.000,00.
- (C) R\$ 460.000,00.
- (D) R\$ 480.000,00.
- (E) R\$ 500.000,00.

QUESTÃO 28

Com base nos dados fornecidos, é correto afirmar que o Ativo Circulante no encerramento do exercício de 2022 é de:

- (A) R\$ 320.000,00.
- (B) R\$ 340.000,00.
- (C) R\$ 360.000,00.
- (D) R\$ 380.000,00.
- (E) R\$ 400.000,00.

ATENÇÃO!

Considere os dados fornecidos adiante para resolução das questões de número 29 a 31.

- Em 31/05/2023, a Cia. Fonte Viva vendeu para a Bom Jesus Ltda. mercadorias no valor total de R\$ 100.000,00, com ICMS incluso de 18%, além de PIS e COFINS de 1,5% e 3%, respectivamente.
- O ICMS não compõe a base de cálculo do PIS nem da COFINS.
- As mercadorias vendidas estavam registradas no Estoque pelo valor de R\$ 45.000,00.
- O contrato prevê o pagamento em 31/08/2023 e contém uma cláusula dispondo que, se ocorrer nos primeiros 30 dias após a venda, haverá desconto de 3% sobre o valor bruto da venda.
- Em 30/06/2023 a Bom Jesus Ltda. efetuou o pagamento da aquisição, fazendo jus ao desconto previsto em contrato.

QUESTÃO 29

Com base nos dados fornecidos, assinale a alternativa que representa o correto registro contábil da venda em 31/05/2023 na Cia. Fonte Viva (desconsidere o registro da baixa do Estoque):

- (A) D – Duplicatas a Receber R\$ 82.000,00
D – ICMS sobre vendas R\$ 18.000,00
D – PIS s/ faturamento R\$ 1.230,00
D – COFINS s/ faturamento R\$ 2.460,00
C – ICMS a recolher R\$ 18.000,00
C – PIS a recolher R\$ 1.230,00
C – COFINS a recolher R\$ 2.460,00
C – Receita Bruta R\$ 82.000,00
- (B) D – Duplicatas a Receber R\$ 96.310,00
D – ICMS sobre vendas R\$ 18.000,00
D – PIS s/ faturamento R\$ 1.230,00
D – COFINS s/ faturamento R\$ 2.460,00
C – ICMS a recolher R\$ 18.000,00
C – PIS a recolher R\$ 1.230,00
C – COFINS a recolher R\$ 2.460,00
C – Receita Bruta R\$ 96.310,00
- (C) D – Duplicatas a Receber R\$ 100.000,00
D – ICMS sobre vendas R\$ 18.000,00
D – PIS s/ faturamento R\$ 1.230,00
D – COFINS s/ faturamento R\$ 2.460,00
C – ICMS a recolher R\$ 18.000,00
C – PIS a recolher R\$ 1.230,00
C – COFINS a recolher R\$ 2.460,00
C – Receita Bruta R\$ 100.000,00
- (D) D – Duplicatas a Receber R\$ 100.000,00
D – ICMS sobre vendas R\$ 18.000,00
D – PIS s/ faturamento R\$ 1.500,00
D – COFINS s/ faturamento R\$ 3.000,00
C – ICMS a recolher R\$ 18.000,00
C – PIS a recolher R\$ 1.500,00
C – COFINS a recolher R\$ 3.000,00
C – Receita Bruta R\$ 100.000,00
- (E) D – Duplicatas a Receber R\$ 100.000,00
D – ICMS sobre vendas R\$ 18.000,00
C – PIS s/ faturamento R\$ 1.230,00
C – COFINS s/ faturamento R\$ 2.460,00
C – ICMS a recolher R\$ 18.000,00
D – PIS a recolher R\$ 1.230,00
D – COFINS a recolher R\$ 2.460,00
C – Receita Bruta R\$ 100.000,00

QUESTÃO 30

Em decorrência da citada operação de venda, a Receita Líquida da Cia. Fonte Viva é de:

- (A) R\$ 77.500,00.
(B) R\$ 78.310,00.
(C) R\$ 79.540,00.
(D) R\$ 80.500,00.
(E) R\$ 80.770,00.

QUESTÃO 31

Em 30/06/2023, o registro do pagamento na Bom Jesus Ltda. será escriturado da seguinte forma:

- (A) D – Fornecedores R\$ 100.000,00
C – Caixa e Equivalentes R\$ 97.000,00
C – Descontos Financeiros Obtidos R\$ 3.000,00
- (B) D – Descontos Financeiros Obtidos R\$ 3.000,00
C – Caixa e Equivalentes R\$ 97.000,00
C – Fornecedores R\$ 100.000,00
- (C) D – Caixa e Equivalentes R\$ 100.000,00
C – Descontos Comerciais Obtidos R\$ 3.000,00
C – Fornecedores R\$ 100.000,00
- (D) D – Fornecedores R\$ 100.000,00
D – Caixa e Equivalentes R\$ 97.000,00
C – Descontos Financeiros Obtidos R\$ 3.000,00
- (E) D – Fornecedores R\$ 100.000,00
D – Descontos Comerciais Obtidos R\$ 3.000,00
C – Caixa e Equivalentes R\$ 97.000,00

QUESTÃO 32

Dentre as alternativas listadas a seguir, assinale aquela que representa uma conta-contábil patrimonial NÃO integrante do Ativo de uma empresa comercial:

- (A) Perdas Estimadas com Créditos de Liquidação Duvidosa.
- (B) Duplicatas Descontadas.
- (C) Prêmios de Seguros a Apropriar.
- (D) Ajuste para redução ao Valor Recuperável de Ativo Intangível.
- (E) Adiantamentos a Fornecedores.

QUESTÃO 33

Com fundamento na NBC TG - Estrutura Conceitual para Relatório Financeiro, do Conselho Federal de Contabilidade, avalie se é verdadeiro (V) ou falso (F) para o que se afirma. A seguir, indique a alternativa com a sequência correta.

() Se informações financeiras devem ser úteis, elas devem ser relevantes e representar fidedignamente aquilo que pretendem representar. A utilidade das informações financeiras é aumentada se forem comparáveis, verificáveis, tempestivas e compreensíveis.

() Informações financeiras relevantes são capazes de fazer diferença nas decisões tomadas pelos usuários. Informações podem ser capazes de fazer diferença em uma decisão ainda que alguns usuários optem por não tirar vantagem delas ou já tenham conhecimento delas a partir de outras fontes.

() A informação é material se a sua omissão, distorção ou obscuridade puder influenciar, razoavelmente, as decisões que os principais usuários de relatórios financeiros para fins gerais tomam com base nesses relatórios. Desta feita, é possível estabelecer um limite quantitativo uniforme para a materialidade, baseado em modelos estatístico-matemáticos, destinado a suprir indiferentemente a todos usuários potenciais.

- (A) F – V – F.
- (B) V – F – V.
- (C) V – V – F.
- (D) F – V – V.
- (E) V – F – F.

QUESTÃO 34

Ainda com base na NBC TG - Estrutura Conceitual para Relatório Financeiro, assinale a alternativa INCORRETA.

(A) As demonstrações contábeis são normalmente elaboradas com base na suposição de que a entidade que reporta está em continuidade operacional e continuará em operação no futuro previsível, ainda que exista forte evidência em contrário demonstrando a intenção ou necessidade de encerrar as operações da entidade em um futuro breve.

(B) As demonstrações contábeis fornecem informações sobre transações e outros eventos observados do ponto de vista da entidade que reporta como um todo e, não, do ponto de vista de qualquer grupo específico de investidores, credores por empréstimos e outros credores, existentes ou potenciais, da entidade.

(C) Para ajudar os usuários das demonstrações contábeis a identificarem e avaliarem mudanças e tendências, as demonstrações contábeis também fornecem informações comparativas de, pelo menos, um período de relatório anterior.

(D) A entidade que reporta é a entidade que é obrigada a, ou decide, elaborar demonstrações contábeis. A entidade que reporta pode ser uma única entidade ou parte da entidade ou pode compreender mais de uma entidade. Uma entidade que reporta não é necessariamente uma entidade legal.

(E) Demonstrações contábeis consolidadas não se destinam a fornecer informações separadas sobre ativos, passivos, patrimônio líquido, receitas e despesas de qualquer controlada específica. As demonstrações contábeis próprias da controlada destinam-se a fornecer essas informações.

QUESTÃO 35

A apropriação mês a mês das obrigações proporcionais de 1/3 de Férias e 13º Salário é decorrência direta do Princípio Contábil:

- (A) da Oportunidade.
- (B) da Competência.
- (C) da Continuidade.
- (D) do Registro Pelo Valor Original.
- (E) da Exatidão.

QUESTÃO 36

Metodologia de custeio exigida por lei para fins fiscais no Brasil, estando alinhada com o princípio contábil da competência. Sob este método, são alocados aos produtos acabados tanto os custos variáveis quanto os custos fixos incorridos no período. Trata-se do:

- (A) Custeio Integral.
- (B) Custeio ABC.
- (C) Custeio RKW.
- (D) Custeio por Absorção.
- (E) Custeio Indireto.

QUESTÃO 37

Princípio Contábil que preconiza que, diante de uma ou mais opções igualmente válidas para mensuração dos elementos patrimoniais, deve-se adotar aquela que resulte em menor valor para o Patrimônio Líquido da entidade:

- (A) Princípio do Conservadorismo.
- (B) Princípio da Certeza.
- (C) Princípio da Prudência.
- (D) Princípio da Parcimônia.
- (E) Princípio da Igualdade.

QUESTÃO 38

Atenção! Para resolução das questões de número 38 a 40, considere os dados a seguir.

- A Cia. Calopsita trabalha com a produção e venda de um único produto: o produto A.
- Suponha que no exercício de 2022 a empresa não detinha estoque inicial e que tenha produzido e vendido 200 unidades do produto A pelo preço unitário de R\$ 200,00.
- Suponha que os custos e despesas incorridos no período tenham sido: Despesas Fixas R\$ 10.000,00; Custos Variáveis/un. R\$ 25,00; Custos Fixos R\$ 14.000,00; Despesas Variáveis/un. R\$ 15,00.

Com base nos dados informados, assinale a alternativa que representa a Margem de Contribuição Total da Cia. Calopsita em 2022:

- (A) R\$ 24.000,00.
- (B) R\$ 32.000,00.
- (C) R\$ 25.000,00.
- (D) R\$ 35.000,00.
- (E) R\$ 40.000,00.

QUESTÃO 39

De acordo com as informações apresentadas, a Cia. Calopsita dispõe atualmente de uma margem de segurança de:

- (A) R\$ 6.000,00.
- (B) R\$ 8.000,00.
- (C) R\$ 10.000,00.
- (D) R\$ 12.000,00.
- (E) R\$ 14.000,00.

QUESTÃO 40

Com base nos dados fornecidos, é correto afirmar que o ponto de equilíbrio contábil da Cia. Calopsita é de:

- (A) 75 unidades.
- (B) 100 unidades.
- (C) 125 unidades.
- (D) 150 unidades.
- (E) 175 unidades.

QUESTÃO 41

Suponha que no curso de determinado trabalho o auditor independente constata, através de evidência apropriada e suficiente, que há distorção relevante no Balanço Patrimonial, decorrente de erro de classificação de investimentos de longo prazo. Contudo, tal distorção não é generalizada, e não contamina outras demonstrações contábeis. No caso hipotético, e de acordo com as Normas Brasileiras de Auditoria, é adequada a emissão de opinião:

- (A) não modificada, com ressalva.
- (B) modificada, adversa.
- (C) modificada, sem ressalva.
- (D) não modificada, com abstenção de opinião.
- (E) modificada, com ressalva.

QUESTÃO 42

Sobre os Procedimentos de Auditoria, avalie as afirmativas abaixo e assinale a alternativa correta.

- I. A Indagação verbal é apropriada e suficiente, por si só, para servir de evidência de auditoria.
 - II. Os procedimentos de auditoria podem ser utilizados como procedimentos de avaliação de riscos, testes de controles ou procedimentos substantivos, dependendo do contexto em que sejam aplicados pelo auditor.
 - III. A observação é o procedimento que envolve o exame de registros ou documentos, internos ou externos, em papel, em forma eletrônica ou em outras mídias, ou o exame físico de ativo.
- (A) Apenas II e III estão corretas.
 - (B) Apenas II está correta.
 - (C) Apenas III está correta.
 - (D) Apenas I e III estão corretas.
 - (E) Apenas I e II estão corretas.

QUESTÃO 43

Dentre os instrumentos de planejamento governamental existentes no atual ordenamento jurídico, um deles é uma peça de médio prazo que tem por finalidade estabelecer, “*de forma regionalizada, as diretrizes, objetivos e metas da administração pública para as despesas de capital e outras delas decorrentes e para as relativas aos programas de duração continuada*”. O enunciado está a tratar:

- (A) da Previsão Trienal.
- (B) do Programa Quinquenal.
- (C) do Quadro Plurienal.
- (D) do Plano Plurianual.
- (E) da Lei de Meios.

QUESTÃO 44

Princípio orçamentário expressamente previsto na Lei nº 4.320/1964, preconizando que todas as receitas previstas e despesas fixadas, em cada exercício financeiro, devem integrar um único documento legal dentro de cada esfera federativa: a Lei Orçamentária Anual (LOA). Trata-se do intitulado:

- (A) Princípio da Totalidade.
- (B) Princípio da Unidade.
- (C) Princípio do Orçamento Bruto.
- (D) Princípio da Anualidade.
- (E) Princípio da Exclusividade.

QUESTÃO 45

Com fundamento na Lei nº 4.320/1964, informe se é verdadeiro (V) ou falso (F) para o que se afirma e assinale a alternativa com a sequência correta.

() O superávit financeiro é apurado no Balanço Financeiro, e pode ser utilizado como fonte para abertura de créditos adicionais.

() Classificam-se como Inversões Financeiras as dotações destinadas ao planejamento e a execução de obras, inclusive as destinadas à aquisição de imóveis considerados necessários à realização destas últimas.

() Para efeito de classificação da despesa, considera-se material permanente o de duração superior a dois anos.

(A) F – F – V.

(B) V – F – F.

(C) F – V – V.

(D) V – F – V.

(E) F – F – F.

QUESTÃO 46

Nos termos da Lei Complementar nº 101/2000, a Lei de Diretrizes Orçamentárias conterá Anexo de Metas Fiscais, em que serão estabelecidas metas anuais, em valores _____, relativas a receitas, despesas, resultados _____ e montante da dívida pública, para o exercício a que se referirem e para os dois seguintes. Indique a opção que preenche corretamente as lacunas.

(A) deflacionados e constantes / nominal e financeiro

(B) deflacionados e atualizados / primário e orçamentário

(C) correntes e constantes / primário e nominal

(D) correntes e constantes / orçamentário e financeiro

(E) correntes e atualizados / primário e financeiro

QUESTÃO 47

Dentre as diversas classificações orçamentárias existentes, uma em especial se dedica a evidenciar a “área” em que é efetivado o gasto público, podendo ser chamada de classificação para os cidadãos, uma vez que proporciona informações gerais sobre as operações do Governo. O enunciado se refere à classificação:

(A) por natureza.

(B) programática.

(C) institucional.

(D) econômica.

(E) funcional.

QUESTÃO 48

Acerca do Plano de Contas Aplicado ao Setor Público, avalie as afirmativas a seguir e assinale a alternativa correta.

I. As contas-contábeis das classes 5 e 6 destinam-se a registrar, processar e evidenciar os atos e os fatos relacionados ao planejamento e à execução orçamentária.

II. As variações patrimoniais quantitativas serão registradas na classe 4, enquanto o patrimônio líquido será registrado na classe 3.

III. As contas da Natureza de Informação de Controle registram, processam e evidenciam os atos de gestão cujos efeitos possam produzir modificações no patrimônio da entidade do setor público, bem como aqueles com funções específicas de controle.

(A) Apenas III está correta.

(B) Apenas I está correta.

(C) Apenas II está correta.

(D) Apenas II e III estão corretas.

(E) Apenas I e III estão corretas.

QUESTÃO 49

A Lei nº 8.666/1993 dispõe que, como critério de habilitação, poderá ser exigida documentação relativa à qualificação econômico-financeira dos licitantes. Sobre o tema, informe se é verdadeiro (V) ou falso (F) para o que se afirma, e assinale a alternativa com a sequência correta.

() A comprovação de boa situação financeira da empresa será feita de forma objetiva, através do cálculo de índices contábeis previstos no edital e devidamente justificados no processo administrativo da licitação.

() Para avaliação de situação financeira dos licitantes é admitida a exigência de quaisquer índices citados na doutrina contábil, mesmo que não usualmente adotados.

() A Administração, nas compras para entrega futura e na execução de obras e serviços, poderá estabelecer, no instrumento convocatório da licitação, a exigência de capital mínimo ou de patrimônio líquido mínimo, desde que não exceda a 10% (dez por cento) do valor estimado da contratação.

- (A) V – F – V.
(B) F – F – V.
(C) V – F – F.
(D) F – V – F.
(E) V – V – V.

QUESTÃO 50

Nos termos da Lei nº 8.666/1993 os serviços de natureza singular, prestados por profissionais ou empresas de notória especialização, deverão ser contratados através de:

- (A) dispensa de licitação.
(B) concurso.
(C) inexigibilidade de licitação.
(D) convite.
(E) licitação dispensada.

